

सामाजिक विज्ञान – केवल प्रश्न-पत्र

समय 2½ घण्टे

कक्षा - 10

पूर्णांक 70

- नोट : (i) यह प्रश्न-पत्र दो खण्डों 'अ' तथा 'ब' में विभाजित है ।  
(ii) प्रत्येक खण्ड का पहला प्रश्न बहुविकल्पीय है । सही विकल्प चुनकर अपनी उत्तर पुस्तिका पर लिखिए ।  
(iii) प्रत्येक खण्ड के सभी प्रश्न एक साथ हल करना आवश्यक है ।  
(iv) प्रत्येक खण्ड को नए पृष्ठ से प्रारम्भ किया जाय ।  
(v) सभी प्रश्न अनिवार्य हैं ।

खण्ड ( अ )

बहुविकल्पीय प्रश्न

1. सभी खण्डों के सही विकल्प चुनकर अपनी उत्तर पुस्तिका पर लिखिए -

- ( क ) फ्रांस की प्राचीन संसद का क्या नाम था - 1  
(i) स्टेटस जनरल (ii) नेशनल असेम्बली  
(iii) नेशनल कन्वेंशन (iv) डायरेक्टरी ।
- ( ख ) प्रोटेस्टेंट आन्दोलन प्रारम्भ किया - 1  
(i) मार्टिन लूथर ने (ii) हेनरी चतुर्थ ने  
(iii) ऑगस्टाइन ने (iv) इनमें से कोई नहीं ।
- ( ग ) मक्विनय अवज्ञा आन्दोलन का मुख्य केन्द्र था - 1  
(i) खेड़ा (ii) पोरबन्दर  
(iii) मृगत (iv) साबरमती आश्रम ।
- ( घ ) भारत के अंतिम गवर्नर जनरल थे - 1  
(i) सरदार पटेल (ii) जवाहर लाल नेहरू  
(iii) डॉ. राजेन्द्र प्रसाद (iv) श्री. राजगोपालचारी ।
- ( ङ ) संयुक्त राष्ट्रसंघ की स्थापना हुई - 1  
(i) 1955 (ii) 1945  
(iii) 1925 (iv) 1935
- ( च ) भारतीय संसद में कितने सदस्य हैं - 1  
(i) दो (iii) चार  
(ii) तीन (iv) पाँच ।

अतिलघु उत्तरीय प्रश्न

2. राष्ट्र संघ ( लीग ऑफ नेशन्स ) की स्थापना कब और किसने की ? 2  
3. भारत छोड़ो आन्दोलन में गाँधीजी ने कौन-सा नाग दिया ? 2

( पृष्ठ पलटिए )

10/4

(2)

A.

4. यूरोप में धर्म सुधार आन्दोलन किगके विरुद्ध था ? 2

सधु उत्तरीय प्रश्न

5. प्रथम विश्व युद्ध के तीन प्रमुख कारण लिखिए । 3

अथवा

पंचशील के तीन सिद्धान्त लिखिए ।

6. माउण्ट वेटन योजना के तीन सिद्धान्त लिखिए । 3

अथवा

राज्यपाल के तीन अधिकारों के विषय में लिखिए ।

विस्तृत उत्तरीय प्रश्न

7. भारत के राष्ट्रपति के अधिकार एवं शक्तियों का वर्णन कीजिए । 6

अथवा

भारत के अपने पड़ोसी देशों के साथ सम्बन्धों का विश्लेषण कीजिए ।

8. द्वितीय विश्वयुद्ध के परिणामों का वर्णन कीजिए । 6

अथवा

फ्राँसीसी क्रान्ति के कारणों का विस्तार से वर्णन कीजिए ।

9. निर्देश- निम्नलिखित स्थानों को भारत के रेखा मानचित्र में  $\odot$  चिन्ह द्वारा नाम सहित दर्शाइए । सही नाम तथा सही अंकन के लिए  $\frac{1}{2}, \frac{1}{2}$  अंक निर्धारित हैं -

(क) वह स्थान जहाँ ताजमहल स्थित है ।

(ख) वह स्थान जहाँ स्वर्ण मंदिर स्थित है ।

(ग) वह नगर जहाँ दशावतार का मंदिर स्थित है ।

(घ) वह नगर जहाँ खुसरो बाग स्थित है ।

(ङ) वह नगर जहाँ से 1857 की क्रान्ति का आरम्भ हुआ ।

खण्ड ( ब )

बहुविकल्पीय प्रश्न

10. सभी खण्डों के सही विकल्प चुनकर अपनी उत्तर-पुस्तिका पर लिखिए -

(क) भाखरा नागल बाँध किस नदी पर स्थित है - 1

(i) गंगा

(ii) गोदावरी

(iii) सतलज

(iv) चम्बल ।

(ख) भारत में कोयला उत्पादन में प्रथम स्थान है - 1

(i) बिहार

(ii) झारखंड

(iii) आन्ध्रप्रदेश

(iv) मध्य प्रदेश ।

(ग) काली मिट्टी का निर्माण होता है - 1

(i) ज्वालामुखी विस्फोट से (ii) वायु से

(iii) ग्लेशियरों से (iv) नदियों से ।

10/4

(3)

A

(घ) भारत में सबसे कम वर्षा होती है

(i) कर्नाटक

(ii) तमिलनाडु

(iii) राजस्थान

(iv) आन्ध्र प्रदेश ।

(ङ) आयकर आय का साधन है

(i) केन्द्र सरकार का

(ii) ग्राम पंचायत का

(iii) राज्य सरकार का

(iv) जिला पंचायत का ।

(च) भारत में आर्थिक उदारीकरण की नीति कब आरम्भ हुई -

(i) 1998 में

(iii) 1981 में

(ii) 1988 में

(iv) 1991 में ।

अतिलघु उत्तरीय प्रश्न

11. भारत में सूती वस्त्र उद्योग के चार प्रमुख केन्द्रों के नाम लिखिए । 2  
12. जनसंख्या के घनत्व से आप क्या समझते हैं ? भारत के किम राज्य में 2  
सर्वाधिक जनसंख्या घनत्व है ? 2  
13. 'पूँजी' को पारिभाषित कीजिए तथा उसके दो लक्षण बताइए । 2

लघु उत्तरीय प्रश्न

14. कोयला की उपयोगिता बताइए । भारत में इसके दो उत्पादक राज्य लिखिए । 3

अथवा

परमाणु खनिज किसे कहते हैं ? कोई चार परमाणु खनिजों के महत्व पर प्रकाश डालिए ।

15. संघठन को पारिभाषित कीजिए । संगठनकर्ता के दो कार्य लिखिए । 3

अथवा

विनिमय को पारिभाषित कीजिए एवं इसके किन्हीं दो लक्षणों की विवेचना कीजिए । <https://www.upboardonline.com>

विस्तृत उत्तरीय प्रश्न

16. कृषि निविष्टियों से आप क्या समझते हैं ? किन्हीं पाँच कृषि निविष्टियों के महत्व का वर्णन कीजिए । 6

अथवा

भारत के पूर्वी तृतीय मैदान का वर्णन निम्न शीर्षकों के अन्तर्गत कीजिए -

(क) स्थिति एवं विस्तार

(ख) भौतिक लक्षण

(ग) कृषि ।

7. लघु एवं कृटीग उद्योग में क्या अन्तर है ? भारत में कृटीग उद्योग के विक्राम के लिए चार उपाय बताइए । 6






अथवा

भारत के उद्योगों के पिछड़ेपन के छः कारणों की विवेचना कीजिए ।

10/4

(4)

A

9. निर्देश- निम्नलिखित को दिये गये भारत के मानचित्र में दर्शाइए। 5
- (क) गंगा नदी  चिन्ह द्वारा नाम सहित।
- (ख) हिमालय पर्वत  चिन्ह द्वारा नाम सहित।
- (ग) एक चाय उत्पादन क्षेत्र  चिन्ह द्वारा।
- (घ) भोपाल  चिन्ह द्वारा नाम सहित।
- (ङ) नई दिल्ली से कोलकाता रेलमार्ग दो स्टेशनों सहित  चिन्ह द्वारा दर्शाइए।

<https://www.upboardonline.com>

Whatsapp @ 9300930012

Send your old paper & get 10/-

अपने पुराने पेपर्स भेजे और 10 रुपये पायें,

Paytm or Google Pay से

<https://www.upboardonline.com>