

संज्ञासूचक

नाम

932

825(FG)

2013

सामाजिक विज्ञान

केवल प्रश्नपत्र

सांस्कृतिक एवं सामाजिक विज्ञान पर्यावरण अध्ययन,  
नागरिक जीवन एवं आर्थिक विकास।

समय : तीन घण्टे 15 मिनट। पूर्णांक : 70

निर्देश : प्रारम्भ के 15 मिनट गीक्षाधिया का प्रश्नपत्र  
पढ़ने के लिए निर्धारित है।

न्यूनता : 1) यह प्रश्नपत्र दो खण्डों क एवं ख में  
विभाजित है। प्रत्येक खण्ड क सभी प्रश्न एक  
साथ हल करना आवश्यक है। प्रत्येक खण्ड  
का उत्तर नए पृष्ठ से प्रारम्भ किया जाय।

| Turn over

825(FG)

- ii) प्रत्येक प्रश्न के लिए निर्धारित अंक उसके  
सम्मतु अंकित हैं।
- iii) प्रश्नपत्र में चार प्रकार के प्रश्न हैं —  
बर्हावकल्पीय, अर्ति लघु उत्तरीय, लघु उत्तरीय  
व विस्तृत उत्तरीय, जिनके सम्बन्ध में निर्देश  
उनके आरम्भ में दिये गये हैं।
- iv) क तथा ख खण्डों हेतु दिये गये मानचित्रों को  
उत्तर-पुस्तिका में मजबूती के साथ संलग्न  
करना आवश्यक है।
- v) दृष्टिबाधित परीक्षार्थियों के लिये मानचित्र  
कार्य के स्थान पर अलग से खण्ड - क में  
प्रश्न संख्या 14 तथा खण्ड - ख में  
प्रश्न संख्या 28 के उत्तर लिखने के लिये  
दिये गये हैं।

खण्ड - क

( बहुविकल्पीय प्रश्न )

सही विकल्प चुनकर उसे अपनी उत्तर-पुस्तिका में लिखिये

1. प्रॉटेस्टेंट आन्दोलन का नेतृत्व किसने दिया

- (क) दान्ते ने
- (ख) सर थामस मूर ने
- (ग) मार्टिन लूथर
- (घ) जूलियस द्वितीय ने ।

2. 'द प्रिंस' का लेखक कौन था ?

- (क) एरियोस्टो
- (ख) पीट्रो एरिटिनो
- (ग) पेट्रार्क
- (घ) मैकियावेली ।

[ Turn over

3. अखिल भारतीय मुस्लिम लीग का प्रथम वार्षिक अधिवेशन हुआ था

- (क) कराची में
- (ख) लखनऊ में
- (ग) अलीगढ़ में
- (घ) लाहौर में ।

1

4. निम्नलिखित राज्यों में से किस एक राज्य में द्विसदनीय व्यवस्थापिका नहीं है ?

- (क) कर्नाटक
- (ख) पश्चिम बंगाल
- (ग) बिहार
- (घ) महाराष्ट्र ।

1

5. संविधान में लोक सभा की अधिकतम निर्धारित संख्या है

(क) 500

(ख) 552

(ग) 555

(घ) 560

1

6. दक्षेस ( दक्षिण एशिया क्षेत्रीय सहयोग संगठन, सार्क ) का पन्द्रहवाँ शिखर सम्मेलन आयोजित किया गया

(क) नई दिल्ली में

(ख) कोलम्बो में

(ग) ढाका में

(घ) माले में ।

1

[ Turn over

( अति लघु उत्तरीय प्रश्न )

7. 1789 के फ्रांस की क्रान्ति के एक सामाजिक तथा एक आर्थिक कारण का उल्लेख कीजिए । 1 + 1

8. यूरोपीयन राष्ट्रवाद से आप क्या समझते हैं ? 2

9. प्रथम विश्व युद्ध के दो कारणों का उल्लेख कीजिए । 1 + 1

( लघु उत्तरीय प्रश्न )

10. लोक सभा का सदस्य निर्वाचित होने के लिए आवश्यक योग्यताएँ क्या हैं ? 3

अथवा

राज्य सभा के सभापति की शक्तियाँ एवं कार्य क्या हैं ?  
 $1 \frac{1}{2} + 1 \frac{1}{2}$

11. जिला न्यायालय पर एक संक्षिप्त टिप्पणी लिखिए । 3

अथवा

लोक अदालत पर एक संक्षिप्त टिप्पणी लिखिए । 3

( दीर्घ उत्तरीय प्रश्न )

12. 1857 की क्रान्ति के कारणों एवं परिणामों की व्याख्या कीजिए । 3 + 3

अथवा

भारतीय स्वतंत्रता संघर्ष में क्रान्तिकारियों की भूमिका की विवेचना कीजिए । 6


13. " भारतीय विदेश नीति का आधार गुटनिरपेक्षता है ।" स्पष्ट कीजिए । <https://www.upboardonline.com> 6

अथवा

दक्षिण के सदस्य देशों के नाम बताइए । इसके गठन के उद्देश्यों पर प्रकाश डालिए । 2 + 4

[ Turn over

( मानचित्र सम्बन्धी प्रश्न )

14. निम्नलिखित स्थानों को भारत के मानचित्र में  चिह्न द्वारा दर्शाइए । सही नाम तथा सही चिह्न के लिये  $\frac{1}{2} \cdot \frac{1}{2}$

अंक निर्धारित है :

(i) वह स्थान जहाँ खुसरो बाग स्थित है ।  $\frac{1}{2} + \frac{1}{2}$

(ii) वह स्थान जहाँ सूर्य मंदिर स्थित है ।  $\frac{1}{2} + \frac{1}{2}$

(iii) वह स्थान जहाँ उत्तर प्रदेश की राजधानी स्थित है ।  $\frac{1}{2} + \frac{1}{2}$

(iv) वह नगर जहाँ मोहम्मदन एंग्लो-ओरियण्टल कालेज की स्थापना की गयी थी ।  $\frac{1}{2} + \frac{1}{2}$

(v) वह स्थान जहाँ 1867 में प्रार्थना समाज की स्थापना की गयी थी ?  $\frac{1}{2} + \frac{1}{2}$

( केवल दृष्टिबाधित परीक्षार्थियों के लिये मानचित्र कार्य के विकल्प के रूप में )

निर्देश : निम्नलिखित प्रश्नों के उत्तर अपनी उत्तर-पुस्तिका में लिखिए । मानचित्र का प्रयोग न कीजिए ।

- (i) खुसरो बाग कहाँ स्थित है ? 1
- (ii) सूर्य मंदिर कहाँ स्थित है ? 1
- (iii) उत्तर प्रदेश की राजधानी कहाँ स्थित है ? 1
- (iv) मोहम्मदन एंग्लो-ओरियण्टल कालेज की स्थापना कहाँ की गयी थी ? 1
- (v) 1867 में प्रार्थना समाज की स्थापना कहाँ की गयी थी ? 1

[ Turn over

खण्ड - ख

( बहुविकल्पीय प्रश्न )

निर्देश : निम्नलिखित विकल्पों में से सही उत्तर चुनकर अपनी उत्तर पुस्तिका में लिखिए :

15. निम्नलिखित में से उत्तर प्रदेश की सबसे बड़ी नदी घाटी परियोजना कौन है ?

- (क) माताटीला
- (ख) राम गंगा
- (ग) रिहन्द
- (घ) गंडक । 1

16. किस राज्य में सुन्दरवन स्थित है ?

- (क) उड़ीसा
- (ख) मेघालय
- (ग) पश्चिम बंगाल
- (घ) अरुणाचल प्रदेश । 1

17. निम्नलिखित में से किससे 'मुम्बई हाई' सम्बन्धित है ?

(क) पर्वत शिखर

(ख) बन्दरगाह

(ग) खनिज तेल

(घ) पर्यटन ।

1

18. भारत में मौद्रिक नीति कौन नियंत्रित करता है ?

(क) वित्त मंत्रालय

(ख) भारतीय रिजर्व बैंक

(ग) भारतीय स्टेट बैंक

(घ) इण्डियन ओवरसीज बैंक ।

1

19. अब तक कितनी पंचवर्षीय योजनायें पूर्ण हो चुकी हैं ?

(क) 11

(ख) 10

(ग) 9

(घ) 8.

1

[ Turn over

20. कपास की खेती के लिए निम्नलिखित में से सर्वाधिक

उपयुक्त मिट्टी कौन है ?

(क) लाल मिट्टी

(ख) काली मिट्टी

(ग) लैटेराइट मिट्टी

(घ) जलोढ़ मिट्टी ।

1

( अति लघु उत्तरीय प्रश्न )

21. तीव्र जनसंख्या वृद्धि के किन्हीं दो दुष्परिणामों का उल्लेख

कीजिए ।

1 + 1

22. वनों पर आधारित किन्हीं दो उद्योगों का उल्लेख कीजिए ।

1 + 1

23. कार्यशील जनसंख्या से आप क्या समझते हैं ?

2

( लघु उत्तरीय प्रश्न )

24. प्राकृतिक आपदा क्या है ? किन्हीं दो प्राकृतिक आपदाओं का उल्लेख कीजिए । 1 + 1 + 1

अथवा

भारत की जलवायु को प्रभावित करने वाले किन्हीं तीन कारकों का उल्लेख कीजिए । 1 + 1 + 1

25. आर्थिक नियोजन की किन्हीं तीन विशेषताओं का उल्लेख कीजिए । 1 + 1 + 1

अथवा

भारत से निर्यात की जाने वाली किन्हीं तीन प्रमुख वस्तुओं का उल्लेख कीजिए । 1 + 1 + 1

[ Turn over

( दीर्घ उत्तरीय प्रश्न )

26. बहुउद्देशीय नदी घाटी परियोजना से आप क्या समझते हैं ? दामोदर घाटी परियोजना का वर्णन निम्नलिखित शीर्षकों के अन्तर्गत कीजिए : 2 + 2 + 2

(अ) स्थिति

(ब) उपलब्धियाँ ।

अथवा

भारत में वनों के ह्रास के कोई तीन कारण लिखिये । वनों के संरक्षण के लिए तीन उपायों का सुझाव दीजिए ।

1 + 1 + 1 + 1 + 1 + 1

27. लघु उद्योग से आप क्या समझते हैं ? भारतीय अर्थव्यवस्था में लघु उद्योगों की किन्हीं चार समस्याओं की विवेचना कीजिए । 2 + 1 + 1 + 1 + 1

अथवा

भारतीय अर्थव्यवस्था में उद्योगों के विकास में आने वाली किन्हीं चार बाधाओं की विवेचना कीजिये ।


$1\frac{1}{2} + 1\frac{1}{2} + 1\frac{1}{2} + 1\frac{1}{2}$

( मानचित्र कार्य )


28. भारत के दिये गये मानचित्र में निम्नलिखित को प्रदर्शित कीजिए ।

(i) सतलज नदी  चिह्न द्वारा नाम सहित ।

$\frac{1}{2} + \frac{1}{2}$

(ii) जूट उत्पादन का क्षेत्र  चिह्न द्वारा । 1

(iii) पश्चिमी तट पर स्थित एक बन्दरगाह  $\Delta$  चिह्न द्वारा नाम सहित ।  $\frac{1}{2} + \frac{1}{2}$

(iv) नागपुर नगर  चिह्न द्वारा नाम सहित ।  $\frac{1}{2} + \frac{1}{2}$

(v) सीमेन्ट उद्योग का एक केन्द्र • चिह्न द्वारा नाम सहित ।  $\frac{1}{2} + \frac{1}{2}$

[ Turn over

( केवल दृष्टिबाधित परीक्षार्थियों हेतु  
मानचित्र कार्य के विकल्प के रूप में )

निर्देश : निम्नलिखित प्रश्नों के उत्तर अपनी उत्तर-पुस्तिका में लिखिए । मानचित्र का प्रयोग न करें ।

(i) हीराकुड बांध किस नदी पर स्थित है ? 1

(ii) जूट का उत्पादन करने वाले किसी एक राज्य का नाम लिखिए । 1

(iii) सीमेन्ट उद्योग के किसी एक केन्द्र का नाम लिखिए । 1

(iv) नागपुर किस प्रदेश में स्थित है ? 1

(v) पश्चिमी तट पर स्थित किसी एक बन्दरगाह का नाम लिखिए । 1

825(FG) - 6,00,000

https://www.upboardonline.com

Whatsapp @ 9300930012

Send your old paper & get 10/-

अपने पुराने पेपर्स भेजे और 10 रुपये पायें,

Paytm or Google Pay से