

932

825(JK)

2018

सामाजिक विज्ञान

केवल प्रश्नपत्र

( ऐतिहासिक एवं सांस्कृतिक विरासत, पर्यावरणीय अध्ययन,  
नागरिक जीवन एवं आर्थिक विकास )

समय : तीन घण्टे 15 मिनट ] / [ पूर्णांक : 70

निर्देश : प्रारम्भ के 15 मिनट परीक्षार्थियों को प्रश्नपत्र  
पढ़ने के लिए निर्धारित हैं ।

निर्देश : i) यह प्रश्नपत्र दो खण्डों क एवं ख में  
विभाजित है। प्रत्येक खण्ड के सभी प्रश्न एक  
साथ हल करना आवश्यक है। प्रत्येक खण्ड  
का उत्तर नए पृष्ठ से प्रारम्भ किया जाय।

90869

[ Turn over

825(JK)

2

ii) प्रत्येक प्रश्न के लिए निर्धारित अंक उसके  
सम्मुख अंकित हैं।

iii) प्रश्नपत्र में चार प्रकार के प्रश्न हैं —  
बहुविकल्पीय, अति लघु उत्तरीय, लघु उत्तरीय  
व विस्तृत उत्तरीय, जिनके सम्बन्ध में निर्देश  
उनके आरम्भ में दिये गये हैं।

iv) क तथा ख खण्डों हेतु दिये गये मानचित्रों को  
उत्तर-पुस्तिका में मजबूती के साथ संलग्न  
करना आवश्यक है।

v) दृष्टिबाधित परीक्षार्थियों के लिये मानचित्र  
कार्य के स्थान पर अलग से खण्ड - क में  
प्रश्न संख्या 14 तथा खण्ड - ख में  
प्रश्न संख्या 28 के उत्तर लिखने के लिये  
दिये गये हैं।

खण्ड - क

( बहुविकल्पीय प्रश्न )

निर्देश : निम्नलिखित विकल्पों में से सही उत्तर चुनकर अपनी उत्तर-पुस्तिका में लिखिए :

1. राफेल कौन था ?  
(क) कवि  
(ख) वैज्ञानिक  
(ग) चित्रकार  
(घ) दार्शनिक। 1
2. 'सत्यार्थ प्रकाश' का सम्बन्ध किस से है ?  
(क) ब्रह्म समाज  
(ख) आर्य समाज  
(ग) रामकृष्ण मिशन  
(घ) थियोसोफिकल सोसाइटी। 1
3. भगत सिंह को कब फांसी दी गयी ?  
(क) 23 मार्च, 1927  
(ख) 23 मार्च, 1931  
(ग) 23 मार्च, 1935  
(घ) 23 मार्च 1937. 1

4. भारत के किस राज्य में द्विसदनीय व्यवस्थापिका है ?  
(क) महाराष्ट्र  
(ख) मध्य प्रदेश  
(ग) पश्चिम बंगाल  
(घ) पंजाब। 1
  5. निम्न में से कौन रूसी क्रान्ति से सम्बन्धित था ?  
(क) रूसो  
(ख) बिस्मार्क  
(ग) लेनिन  
(घ) इरंस्मस । 1
  6. सर्वोच्च न्यायालयों के न्यायाधीशों की नियुक्ति कौन करता है ?  
(क) प्रधान न्यायाधीश  
(ख) प्रधान मंत्री  
(ग) न्यायिक आयोग  
(घ) राष्ट्रपति। 1
- ( अति लघु उत्तरीय प्रश्न )
7. भारतीय सैन्य संगठन का संक्षिप्त विवरण दीजिए। 2
  8. लोक अदालतों की किन्हीं दो विशेषतायें बताइए। 1 + 1
  9. रूसो कौन था ? उसकी प्रसिद्ध रचना कौन-सी है ? 1 + 1

5

825(JK)

( लघु उत्तरीय प्रश्न )

10. उच्च न्यायालय के न्यायाधीशों को उनके पद से हटाने की क्या प्रक्रिया है ? स्पष्ट कीजिए। 3

अथवा

सर्वोच्च न्यायालय के न्यायाधीशों की नियुक्ति किस प्रकार की जाती है ? 3

11. स्वामी विवेकानन्द कौन थे ? उनकी लोकप्रियता के क्या कारण थे ? 1 + 2

अथवा

नेपोलियन कौन था ? वह क्यों प्रसिद्ध है ? 1 + 2

( दीर्घ उत्तरीय प्रश्न )

12. द्वितीय विश्व युद्ध का विश्व पर क्या प्रभाव पड़ा ? उदाहरण देकर स्पष्ट कीजिए। 4 + 2

अथवा

नेशनल कैडेट कोर का संक्षिप्त विवरण दीजिए। 6

90869

[ Turn over

825(JK)

6

13. देश की सुरक्षा को सुदृढ़ करने के लिए सरकार को क्या उपाय करने चाहिए ? 6

अथवा

संयुक्त राष्ट्र संघ की स्थापना कब हुई ? इसकी स्थापना के क्या उद्देश्य थे ? 2 + 4

( मानचित्र सम्बन्धी प्रश्न )

निर्देश : निम्नलिखित स्थानों को भारत के रेखा मानचित्र में

⊙ चिह्न द्वारा नाम सहित दर्शाइए। सही नाम तथा सही अंकन के लिये  $\frac{1}{2}$ ,  $\frac{1}{2}$  अंक निर्धारित हैं :

14. (i) वह स्थान जहाँ उत्तर प्रदेश का उच्च न्यायालय स्थित है।  $\frac{1}{2} + \frac{1}{2}$
- (ii) वह स्थान जहाँ महात्मा गाँधी का जन्म हुआ।  $\frac{1}{2} + \frac{1}{2}$
- (iii) वह स्थान जहाँ स्वर्ण मन्दिर स्थित है।  $\frac{1}{2} + \frac{1}{2}$
- (iv) वह नगर जहाँ दिल्ली से पहले ब्रिटिश की भारत में राजधानी थी।  $\frac{1}{2} + \frac{1}{2}$
- (v) वह स्थान जहाँ लालकिला स्थित है।  $\frac{1}{2} + \frac{1}{2}$

90869

( केवल दृष्टिबाधित परीक्षार्थियों के लिये  
मानचित्र कार्य के विकल्प के रूप में )

निर्देश : ये प्रश्न मानचित्र कार्य के विकल्प स्वरूप हैं। इन प्रश्नों के उत्तर अपनी उत्तर-पुस्तिका में लिखिए। मानचित्र का प्रयोग न कीजिए।

14. (i) उत्तर प्रदेश का उच्च न्यायालय कहाँ स्थित है ? 1  
(ii) महात्मा गाँधी का जन्म कहाँ हुआ था ? 1  
(iii) स्वर्ण मन्दिर कहाँ स्थित है ? 1  
(iv) दिल्ली से पहले ब्रिटिश की भारत में राजधानी कहाँ थी ? 1  
(v) लालकिला कहाँ स्थित है ? 1

खण्ड - ख

( बहुविकल्पीय प्रश्न )

निर्देश : निम्नलिखित विकल्पों में से सही उत्तर चुनकर अपनी उत्तर-पुस्तिका में लिखिए :

15. 2011 की जनगणना के अनुसार देश में साक्षरता प्रतिशत है  
(क) 43.5  
(ख) 52.2  
(ग) 73.0  
(घ) 75.85 1

16. कोडरमा खान सम्बन्धित है

- (क) लौह अयस्क से  
(ख) ताँबा से  
(ग) अभ्रक से  
(घ) बाक्साइट से। 1

17. सुन्दरवन पाया जाता है

- (क) गंगा डेल्टा में  
(ख) गोदावरी डेल्टा में  
(ग) महानदी डेल्टा में  
(घ) कावेरी डेल्टा में। 1

18. भारत में सर्वाधिक रबड़ उत्पन्न करने वाला राज्य है <http://www.upboardonline.com>

- (क) तमिलनाडु  
(ख) केरल  
(ग) कर्नाटक  
(घ) उड़ीसा। 1

19. योजना आयोग के स्थान पर सन् 2015 में गठित होनेवाला आयोग है

(क) वाणिज्य आयोग

(ख) वित्त आयोग

(ग) नीति आयोग

(घ) लोक आयोग।

1

20. भारत में नवीन आर्थिक उदारीकरण की नीति किस वर्ष से आरम्भ हुयी थी ?

(क) 1988

(ख) 1991

(ग) 1998

(घ) 1981.

1

( अति लघु उत्तरीय प्रश्न )

21. अन्नक के कोई दो उपयोग लिखिए।

1 + 1

22. नेपालगंज किस राज्य में स्थित है और किस उद्योग से सम्बन्धित है ?

1 + 1

23. वस्तु विनिमय प्रणाली को परिभाषित कीजिए तथा उसकी एक कठिनाई का उल्लेख कीजिए।

1 + 1

( लघु उत्तरीय प्रश्न )

24. ऊर्जा संसाधन से क्या तात्पर्य है ? भारत में किन्हीं दो ऊर्जा क्षेत्रों का उल्लेख कीजिए।

1 + 1 + 1

अथवा

कुटीर उद्योग को परिभाषित कीजिए। इसके दो महत्व का संक्षिप्त वर्णन कीजिए।

1 + 1 + 1

25. भारत के विदेशी व्यापार की तीन प्रमुख विशेषताओं का वर्णन कीजिए।

1 + 1 + 1

अथवा

'श्रम' का क्या आशय है ? कुशल एवं अकुशल श्रम में अन्तर स्पष्ट कीजिए।

1 + 2

( दीर्घ उत्तरीय प्रश्न )

26. भारत में परिवहन साधनों का वर्णन कीजिए तथा उनके महत्व पर प्रकाश डालिए।

3 + 3

अथवा

मौद्रिक नीति का उद्देश्य समझाइए एवं भारतीय रिजर्व बैंक के किन्हीं चार कार्यों का उल्लेख कीजिए।

2 + 1 + 1 + 1 + 1

"कृषि भारतीय अर्थव्यवस्था का मुख्य आधार है।"  
क्यों ? भारतीय कृषि के पिछड़ेपन के किन्हीं चार  
कारणों की विवेचना कीजिए। 2 + 1 + 1 + 1 + 1


अथवा

बहुउद्देशीय नदी घाटी परियोजना से आप क्या समझते  
हैं ? उनके चार उद्देश्यों पर प्रकाश डालिए।


2 + 1 + 1 + 1 + 1

( मानचित्र कार्य )

निर्देश : दिये गये भारत के मानचित्र में निम्नलिखित को  
दर्शाइए :


28. (i) गोदावरी नदी  चिह्न द्वारा नाम सहित।


$\frac{1}{2} + \frac{1}{2}$

(ii) सतपुड़ा पर्वत  चिह्न द्वारा नाम सहित।

$\frac{1}{2} + \frac{1}{2}$

(iii) चन्डीगढ़ • चिह्न द्वारा नाम सहित।  $\frac{1}{2} + \frac{1}{2}$

(iv) इलाहाबाद से दिल्ली रेलमार्ग  चिह्न  
द्वारा तथा बीच का एक स्टेशन नाम सहित।  $\frac{1}{2} + \frac{1}{2}$

(v) कपास उत्पादन का एक क्षेत्र  चिह्न द्वारा।

( केवल दृष्टिबाधित परीक्षार्थियों के लिये  
मानचित्र कार्य के विकल्प के रूप में )

निर्देश : निम्नलिखित प्रश्नों के उत्तर अपनी उत्तर-पुस्तिका में  
लिखिए। मानचित्र का प्रयोग न कीजिए।

28. (i) गोदावरी नदी किस खाड़ी में गिरती है ?

1

(ii) बंगलुरु किस राज्य की राजधानी है ?

1

(iii) कपास उत्पादक किसी एक राज्य का नाम  
लिखिए।

1

(iv) नागपुर किस राज्य में स्थित है ?

1

(v) जूट उद्योग के किसी एक केन्द्र का नाम लिखिए।

1

**825(JK) - 6,00,000**

http://www.upboardonline.com

Whatsapp @ 9300930012

Send your old paper & get 10/-

अपने पुराने पेपर्स भेजे और 10 रुपये पायें,

Paytm or Google Pay से